

# 前世今生 滄海桑田--地名與土地利用的探索（國中版）

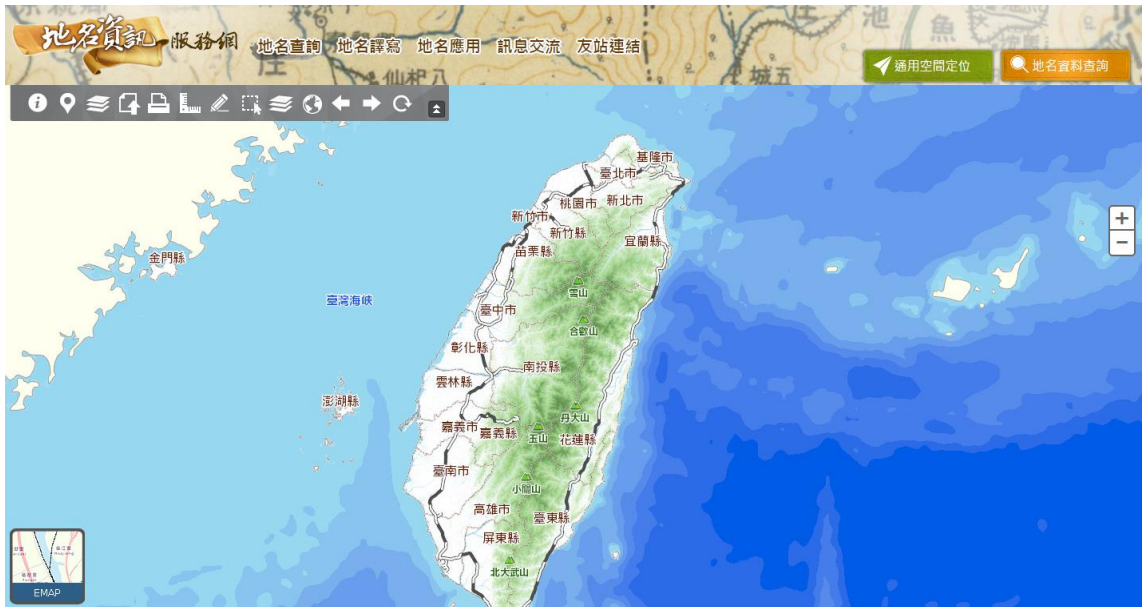
## 第一回 台北地區的追本溯源

班級\_\_\_\_\_ 姓名\_\_\_\_\_ 座號\_\_\_\_\_

各位同學：今日台灣社會高度都市化，因工商繁榮交通便利，都市景觀快速變遷，即便鄉村景象也與阿公時代差異很大。你（妳）知道住家或學校附近在百年前是什麼模樣嗎？當時的地名是什麼？又是作怎樣的土地利用呢？這張學習單就可以讓同學來追尋家鄉土地的前世今生與滄海桑田的變化過程。

說明：

請上網連結到「內政部地名資訊服務網」<http://gn.moi.gov.tw/geonames/index.aspx>



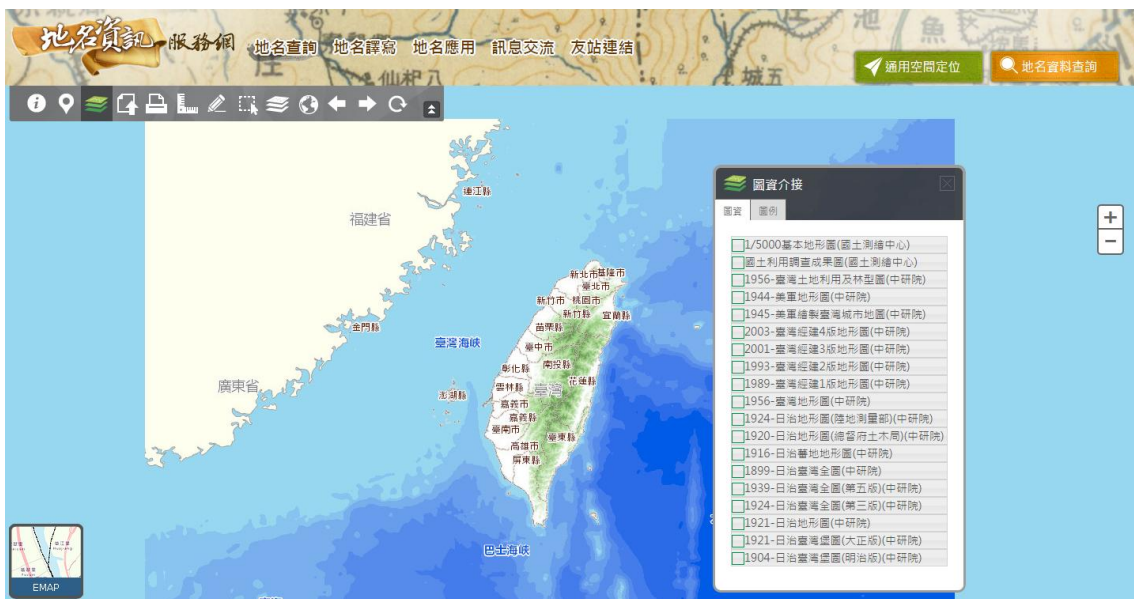
查詢以下各題的答案。

操作方法：1. 首頁有「會員登入」不必理會，直接點上方「查詢系統」。

2. 點入「查詢系統」後在左上方「系統底圖」中選擇「行政區域圖」。

3. 在「圖資」中點選「地名圖層」與「1939—日治臺灣全圖（第五版）」。

4. 用滑鼠滾輪與按住左鍵可以放大、縮小與拖曳地圖位置。

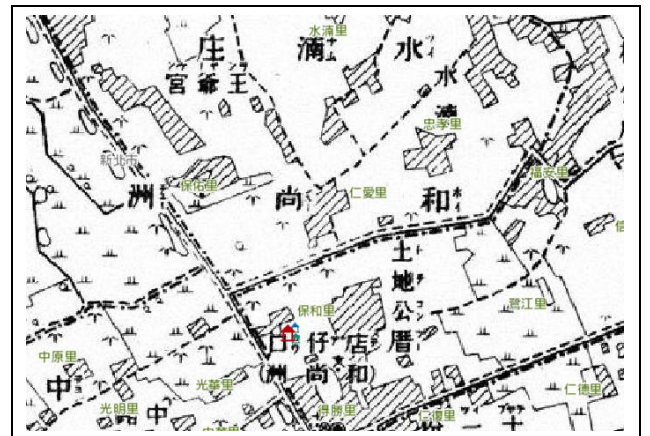


### 初階題：

1. 先在「地名圖層」中找到新北市蘆洲區，再打開「1939—日治臺灣全圖（第五版）」，請問淡水河左岸在今日蘆洲與三重地區當時的地名是：鷺洲庄。雖然今日三重比蘆洲面積大又繁榮，可是在當時兩地是合併為一個行政單位，而且是把三重列在蘆洲之內管轄。



2. 關掉「1939—日治臺灣全圖（第五版）」，換打開「1904—日治臺灣堡圖（明治版）」，當時蘆洲地區稱為：和尚洲，相傳是有一位○○到此地而得名
3. 在1904年地圖中畫有斜線的區域應該是：住家(或聚落)，旁邊像小草的圖案應該是：田地。



### 進階題：

1. 只打開「地名圖層」，在蘆洲的東側淡水河右岸，有一個被淡水河與基隆河包圍的半島，就是今日的社子地區，但是打開「1939—日治臺灣全圖（第五版）」，會發現這裡原來是個完全被河道包圍的島嶼。
2. 承上題，再往右找到大直，有個台灣神社，是日治時期在臺日人的信仰中心，不過在光復後就拆掉了，後來在附近蓋了著名的：圓山大飯店（請先關掉「1939—日治臺灣全圖（第五版）」，然後在「系統底圖」中切換成「測繪中心通用版電子地圖」，就能找到答案）。



精進題：

1. 再打開「1939—日治臺灣全圖（第五版）」，在大直的右下方有一條彎彎曲曲的河道，那就是 **基隆** 河的曲流，正因為流到大直那一段特別直，故此地稱為「大直」。不過，切換到今日「行政區域圖」，此段河道卻是一道直線，這就是在民國七十年代施工的○○河 **截彎取直** 工程。



<1939—日治臺灣全圖（第五版）>



<通用版電子地圖>

2. 承上題，當時臺北市政府為了防洪與土地的需求，展開此一工程，今日的大直美麗華摩天輪那一帶的土地就是這樣「生出來」的。政府為了科技產業發展，還利用此新生土地開闢了 **內湖** 科學工業園區，此區發展迅速，其產值已經超過臺灣第一座的「**新竹** 科學工業園」。

3. 不過，此工程也引起許多地理與防洪工程學者的憂慮，認為反而會加重河道侵蝕與洪水氾濫的風險，因此後來政府又在○○河上游，以挖穿山洞蓋一條導水隧道的方式，在颱風天把上游大量的河水直接排到大海，以減少下游臺北市區的淹水機率，也發揮了功效，這就是 員山子 分洪計畫。

操作此學習單的心得：

---

---

---

---

---

加分題：

學會了這張學習單的操作之後，請同學試著找一找你（妳）家鄉的前世今生吧！

1. 我的家鄉是 \_\_\_\_\_ 縣/市 \_\_\_\_\_ 鄉/鎮/市/區。在以前曾經叫作：\_\_\_\_\_，此地曾經先後有：\_\_\_\_\_ 不同的地名（若無，就不必回答），這裡的土地利用演變是：\_\_\_\_\_，而今日則是以：\_\_\_\_\_ 為主。
2. 如果方便，去請教家中或鄰居長輩，我的家鄉在近三、四十年來，有沒有什麼大型公共工程，改變了家鄉的土地外貌以及對此地人們在各方面的影響：

---

---

---